





ΜΑΘΗΜΑΤΙΚΑ Β' ΤΑΞΗΣ

Όνομα: _____

Προβλήματα:

1. Ο Μικές και ο Κωνσταντίνος δε συμφωνούν για το ποιος σηκώνει την πιο βαριά τσάντα.
Μπορείς να βρεις ποιος έχει δίκιο;

δύο κιλά ντομάτες ενάμισι κιλό ακτινίδια δυόμισι κιλά σταφύλια	Μικές 	Εγώ σηκώνω μεγαλύτερο βάρος.	Κωνσταντίνος 	Όχι εγώ σηκώνω μεγαλύτερο βάρος.	ενάμισι κιλό γιαούρτι ενάμισι κιλό τυρί δυόμισι κιλά πατάτες μισό κιλό ελιές
--	--	------------------------------------	---	--	---

Απάντηση: _____




2. Για να φτιάξω ένα κέικ σοκολάτας χρειάζομαι:

- 1 κιλό αλεύρι
- μισό κιλό ζάχαρη
- 200 γραμμάρια βούτυρο
- μισό κιλό σοκολάτα
- και 150 γραμμάρια καρύδια τριμμένα.

Αν θέλω να φτιάξω τρία ίδια κέικ για να τα πάρω μαζί μου στην εκδρομή με τους φίλους μου, πόσα υλικά θα χρησιμοποιήσω;

- αλεύρι
- ζάχαρη
- βούτυρο
- σοκολάτα
- και καρύδια τριμμένα

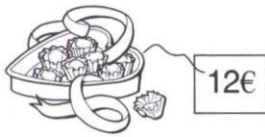
3. Αντιστοιχίζω τα παρακάτω με το βάρος που εκτιμώ πως έχουν.



10 κιλά 500 γραμμάρια 32 κιλά 8 γραμμάρια 14 γραμμάρια

Τα βάζω σε σειρά από το πιο ελαφρύ στο πιο βαρύ.



4. Η Μαρία αγόρασε για τη γιορτή της δυόμισι κιλά σοκολατάκια.



- Πόσα χρήματα πρέπει να πληρώσει;
- Πόσα ρέστα θα πάρει από ένα χαρτονόμισμα των 50€;
- Αν αγόραζε 6 κιλά σοκολατάκια πόσα χρήματα θα πλήρωνε;
- Θα της έφτανε το χαρτονόμισμα των 50€;
ΝΑΙ ΟΧΙ
- Πόσα χρήματα θα χρειαζόταν ακόμη;

5. Ο Χρήστος πήγε με τη γιαγιά του στη λαϊκή. Του Χρήστου του αρέσουν πολύ τα φρούτα.

1 κιλό κεράσια 1 κιλό φράουλες 1 κιλό μπανάνες 1 κιλό μήλα



Μπορείς να υπολογίσεις πόσο κόστισαν τα φρούτα που αγόρασαν ο Χρήστος με τη γιαγιά του;

Τα δύο κιλά κεράσια κοστίζουν€.

Το ενάμισι κιλό φράουλες κοστίζει€.

Τα τέσσερα κιλά μπανάνες κοστίζουν€.

Το ενάμισι κιλό μήλα κοστίζει€.

- Πόσα χρήματα πλήρωσαν για όλα τα φρούτα;
- Πόσα ρέστα θα πάρει από ένα χαρτονόμισμα των 20€;

